

# Aufbruch in eine neue Zeit

Nenne deine Vorstellung zum Titel "Aufbruch in eine neue Zeit" in Form eines MindMap (z.B. Was bedeutet Aufbruch?)

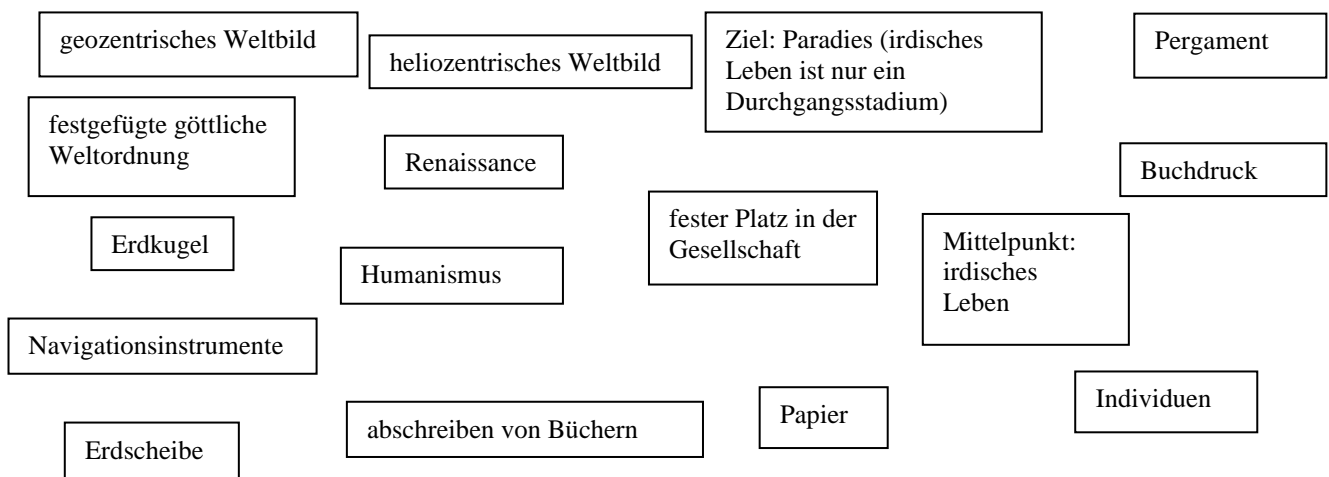
Aufbruch in eine neue Zeit

Zeichne einen Zeitstrahl, indem du die Epoche "Neuzeit" einzeichnest. Die notwendigen Informationen erhältst du von der Karteikarte 2 (☞ M1).

## Veränderungen prägen die Neuzeit

Vergleiche das Mittelalter und die Neuzeit miteinander. Lies dafür den Informationstext (☞ M2). Stelle in der Tabelle die wesentlichen Unterschiede und Gemeinsamkeiten dar. Hierfür **kannst** du die Begriffe unterhalb der Tabelle verwenden. Erkläre die Begriffe Renaissance und Humanismus (hierfür kannst du weitere Bücher und Lexika benutzen).

Mittelalter	Neuzeit



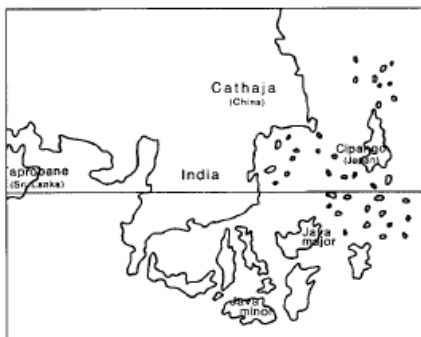




## Erfinderungen, die die Welt veränderten

Viele Luxusprodukte wie Seide, Gewürze oder Parfüm importierte man im Mittelalter, über den Landweg, aus Indien und China. Nachdem die Osmanen (siehe Geschichtsatlas S. 57) um 1500 das gesamte östliche Mittelmeer erobert hatten und somit den Landweg nach Indien kontrollierten, beherrschten sie den Handel. Die christlichen Handelsleute suchten deswegen einen anderen Weg – einen Seeweg. Es begann die Zeit der Entdeckungsfahrten. Diese wurden erst durch verschiedene Erfindungen ermöglicht.

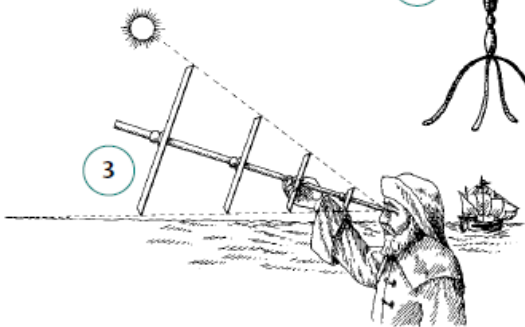
Erfinderungen und Entdeckungen veränderten das Menschen- und Weltbild. Neben dem Buchdruck veränderten folgende Erfindungen das bisher bekannt Bild. Auf der



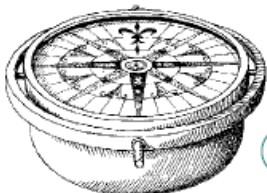
1



2



3



4



5

- 1 Erfindung:** .....  
 Konnten von den Wissenschaftlern durch die Hinweise der ..... vervollständigt werden, halfen den Seeleuten immer zuverlässiger bei ihren .....
- 2 Erfindung:** .....  
 Wissenschaftler behaupten, die Erde sei keine ....., sondern rund. 1492 entstand der erste ....., der jetzt noch vervollständigt werden musste. 1522 bestätigte Magellan durch seine Weltumseglung die ..... der Erde.
- 3 Erfindung:** .....  
 Mit ihm ließ sich der Winkel zwischen Erdoberfläche und Sonne oder Sternen ermitteln. War der ..... bestimmt, konnte man in ..... nachlesen, wie weit nördlich ..... südlich des ..... das S.....
- 4 Erfindung:** .....  
 Seine magnetisierte ..... zeigt immer nach ..... Dadurch konnten die Seefahrer sicher alle ..... bestimmen. Mit dem Magnetkompass konnte man auch in der ..... die Fahrtrichtung halten.
- 5 Erfindung:** .....  
 Das war ein ..... und ....., vor allen Dingen ..... Schiff mit ..... Es war groß genug, um ausreichend Verpflegung für eine ..... aufzunehmen.

Karteikarte 6 (☞ M5) findest du die notwendigen Begriffe, die du in die entsprechenden Felder eintragen musst.

### Das Zeitalter der Entdeckungen

Hier siehst du die Namen von vier großen Entdeckern. Leider ist alles durcheinandergeraten. Bringe die Namen und Vornamen richtig zusammen und ordne sie den Abbildungen zu, indem du im Internet oder Lexikon recherchierst.

Vorname

Name

BARTOLOMEO

KOLUMBUS

CHRISTOPH

DIAZ

FERNANDO

DA GAMA

VASCO

MAGELLAN



um 1450–1500



1451–1506

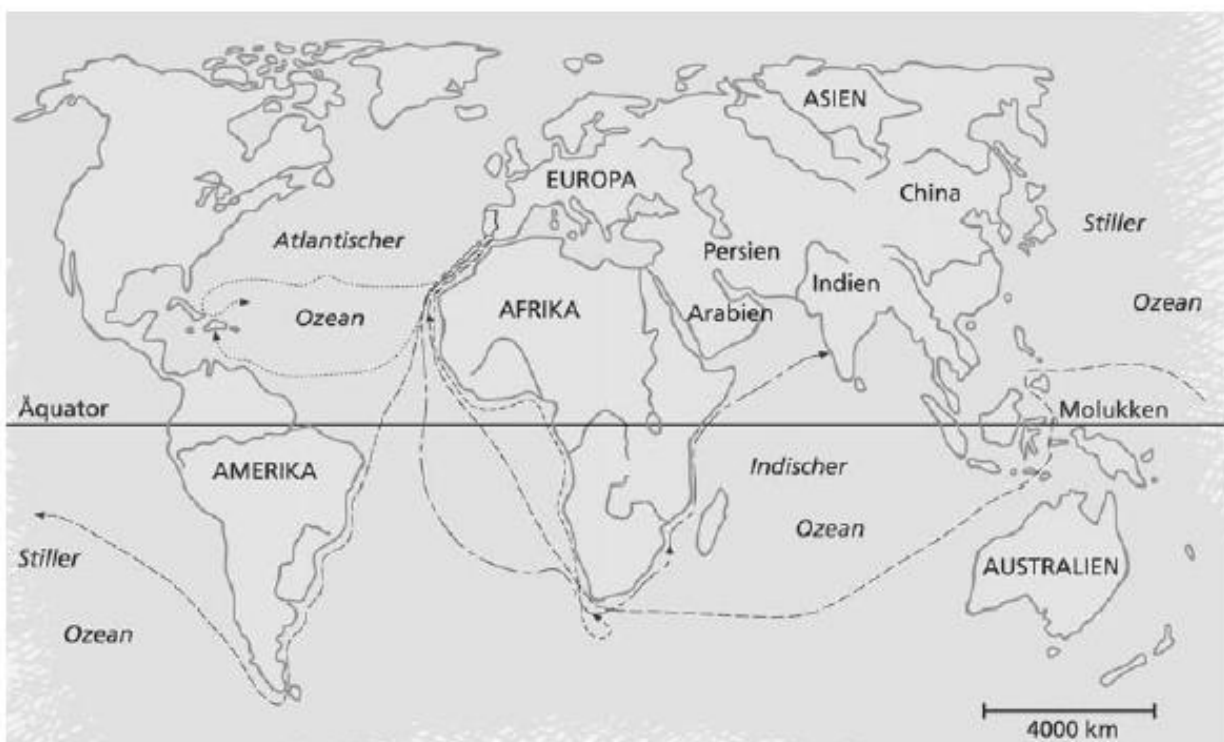


1469–1524



1480–1521

Suche für jeden Seefahrer eine eigene Farbe aus und markiere damit den jeweiligen Seeweg. Kennzeichne mit der gleichen Farbe den Punkt unter dem Porträt. (☞ Geschichtsatlas)



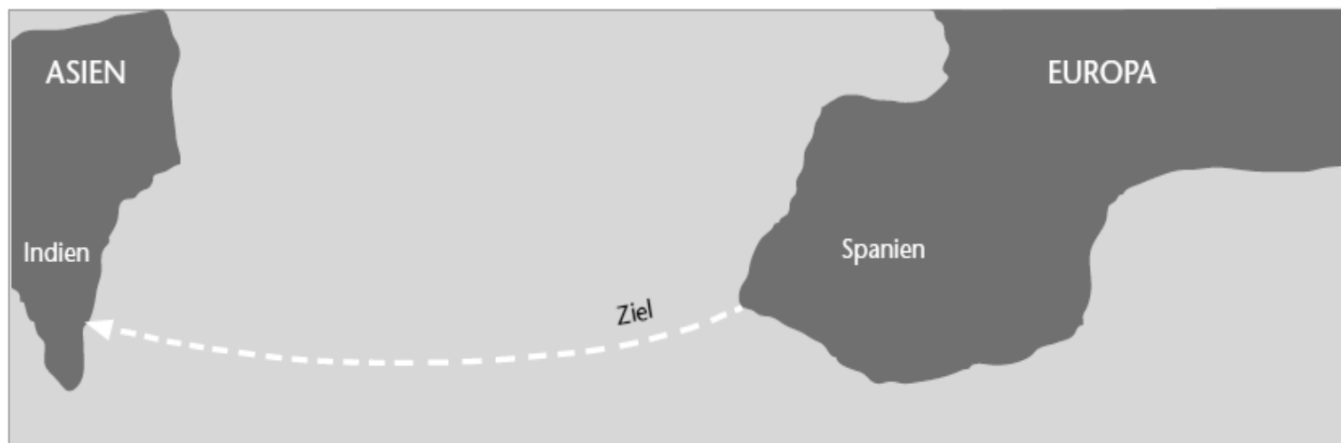
Wer hat welchen Seeweg entdeckt? Bei der Aufzählung unten sind die Jahreszahlen durcheinandergeraten. Verbinde jeweils die Routen und die Jahreszahlen mit der zugehörigen "Seefahrerfarbe" (Geschichtsatlas).

<u>Jahr</u>	<u>Seeweg</u>
1487/88	Seeweg nach Indien
1492	Erste Weltumsegelung
1498	Entdeckung Amerikas
1519/1521	Umsegelung der Südspitze Afrikas

Erstelle einen Steckbrief zu einem Entdecker. Neben diesen vier bereits erwähnten gibt es eine Vielzahl. Eine Liste, aus der du einen dir aussuchen kannst, liegt bei den Kopiervorlagen.

*Benutze hierfür Bücher und/ oder das Internet (z.B. [www.reisen-entdecken-abenteuer.de](http://www.reisen-entdecken-abenteuer.de))*

### Der Irrtum des Kolumbus




Das Vorhaben von Kolumbus

Zeichne den amerikanischen Kontinent in die Karte oben ein. (Es reicht eine Skizze.)

Erkläre auf welchem Irrtum sich der Begriff "Indianer"? gründet.

Kolumbus rechnete mit einer Fahrzeit von drei Wochen, benötigt aber insgesamt über zwei Monat für seine Reise. Überlege dir, was er nach seiner Rückkehr erzählt haben könnte (☞ M 7). Mit welchen Problemen hat er zum Ende der Überfahrt zu kämpfen?



Am 12. Oktober 1492 landeten Kolumbus' Schiffe dann endlich auf der Insel Guanahani, einer kleinen Insel der Bahamas. Kolumbus nannte die Insel San Salvador (Heiliger Erlöser) und erklärte sie zum Besitz des spanischen Königs. Von San Salvador aus segelten Kolumbus und seine Leute weiter durch die Inseln der Karibik und "entdeckten" Kuba und Haiti. Dort gründete Kolumbus Weihnachten 1492 eine spanische Kolonie. Auf der Rückfahrt führte Kolumbus Früchte, Pflanzen und Tiere mit an Bord, die den Menschen in Europa völlig unbekannt waren. Auch einige eingeborene Männer und Frauen hatten die Spanier auf ihre Schiffe verschleppt, um sie in Spanien zu zeigen.



## Die Entstehung der Weltwirtschaft

Neben Spanien gründete auch Portugal eine Vielzahl an Kolonien in der sogenannten „neuen Welt“. Siehe im Geschichtsatlas nach, wo die beiden Seefahrernationen ihre Kolonien gründeten.

---

---

---

---

---

---

Die Kolonien dienten häufig als Lieferant von exotischen Rohstoffen.

- Benenne die exotischen Waren. (Geschichtsatlas)
- Der Handelsweg auf dem Atlantik ähnelte einem Dreieck. Erstelle, mit Hilfe des Textes ☞ **M8**, eine Skizze zum Thema Atlantischer Dreieckshandel. Er sollte die Staaten und Handelsgüter beinhalten.

Wähle eine der drei Rollen: (Material: Geschichtsatlas)

- Als Kapitän eines spanischen Handelsschiffes stichst du von Cadiz Richtung Buenos Aires in See. Entscheide, welche Waren du an Bord nimmst und was du an den Anlaufstellen jeweils an- oder verkaufst. Begründe deine Entscheidungen.
- Als Kapitän eines portugiesischen Handelsschiffes stichst du von Lissabon Richtung Goa in See. Entscheide, welche Waren du an Bord nimmst und was du an den Anlaufstellen jeweils an- oder verkaufst. Begründe deine Entscheidungen.
- Als Kapitän eines spanischen Handelsschiffes stichst du von Cadiz Richtung Kuba in See. Der Rückweg führt dich über Mexiko und Florida. Entscheide, welche Waren du an Bord nimmst und was du an den Anlaufstellen jeweils an- oder verkaufst. Begründe deine Entscheidungen.

Beurteile die Entdeckung Amerikas und die Gründung von Kolonien auf unser heutiges Leben. (☞ M 9)